

## Вторая олимпиада по геометрии им. И.Ф.Шарыгина

Финал

8 класс

8.1.(И.Яценко) Впишите в данный полукруг правильный треугольник наибольшего периметра.

**Решение.** Очевидно, вписать треугольник в полукруг можно двумя способами: либо две вершины треугольника лежат на дуге, а третья на диаметре полукруга, либо, наоборот, две вершины на диаметре, а третья на дуге. Рассмотрим первый случай. Пусть вершины  $A, B$  лежат на дуге. Тогда серединный перпендикуляр к  $AB$  проходит через центр полукруга. Следовательно, третья вершина совпадает с центром и сторона треугольника равна радиусу полукруга (рис.8.1.1).

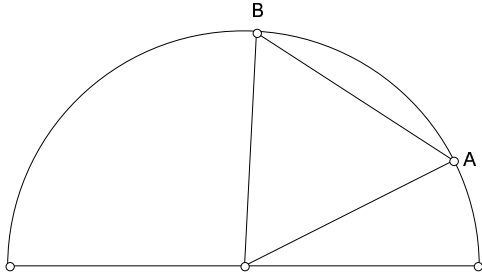


Рис.8.1.1

Во втором случае высота треугольника не превосходит радиуса полукруга, причем в случае, изображенном на рис.8.1.2, равенство достигается. Следовательно, именно этот треугольник и будет искомым.

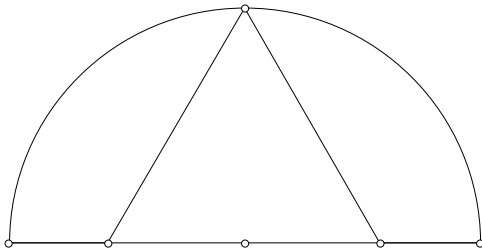


Рис.8.1.2

8.2. (Б.Френкин) При каком наименьшем  $n$  существует  $n$ -угольник, который можно разрезать на треугольник, четырехугольник, ..., 2006-угольник?

**Решение.** Ответ:  $n = 3$ . Из рисунка 8.2 видно, что при любом  $n \geq 3$  треугольник можно разрезать на  $n$ -угольник и  $(n + 1)$ -угольник. Следовательно, можно лучами, выходящими из одной вершины, разрезать треугольник на 1002 треугольника, а затем первый из них разрезать на треугольник и четырехугольник, второй на пятиугольник и шестиугольник, ..., последний — на 2005-угольник и 2006-угольник.

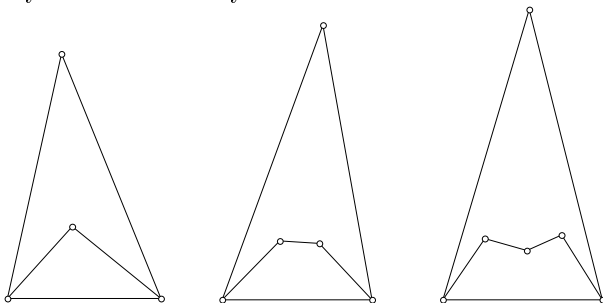


Рис.8.1

8.3. (В.Протасов) Дан параллелограмм  $ABCD$ . Две окружности с центрами в вершинах  $A$  и  $C$  проходят через  $D$ . Прямая  $\ell$  проходит через  $D$  и вторично пересекает окружности в точках  $X, Y$ . Докажите, что  $BX = BY$ .

**Решение.** Рассмотрим, например, случай, изображенный на рис.8.3. Имеем  $AX = AD = BC$  и  $CY = CD = AB$ . Кроме того,  $\angle BCY = \angle C - \angle DCY = \angle C - (\pi - 2\angle CDY) = 2\angle CDY - \angle D = \angle CDY - \angle ADX$ ,  $\angle BAX = \angle DAX - \angle A = \pi - 2\angle ADX - \angle A = \angle D - 2\angle ADX = \angle CDY - \angle ADX$ . Значит, треугольники  $ABX$  и  $CYB$  равны, откуда и следует искомое равенство. Другие случаи расположения точек  $X, Y$  рассматриваются аналогично.

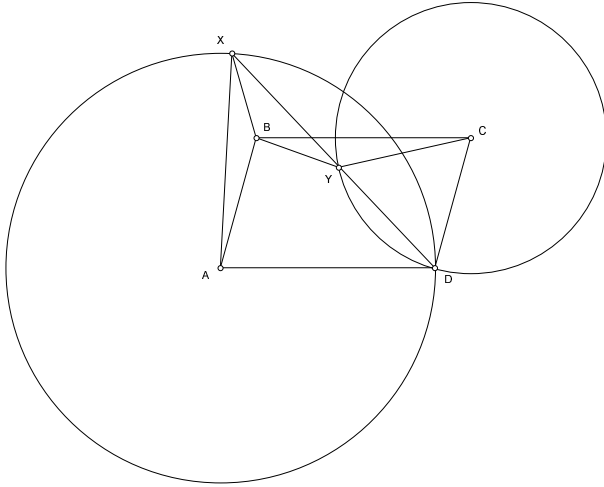


Рис.8.3

8.4. (А.Заславский) Две равные окружности пересекаются в точках  $A$  и  $B$ .  $P$  — отличная от  $A$  и  $B$  точка одной из окружностей,  $X, Y$  — вторые точки пересечения прямых  $PA, PB$  с другой окружностью. Докажите, что прямая, проходящая через  $P$  и перпендикулярная  $AB$ , делит одну из дуг  $XY$  пополам.

**Решение.** Рассмотрим случай, когда  $P$  лежит внутри второй окружности (рис.8.4). Пусть  $Q$  точка пересечения прямой, проходящей через  $P$  и перпендикулярной  $AB$ , лежащая вне первой окружности. Тогда  $\angle QPX = (\sphericalangle QX + \sphericalangle AP)/2$ ,  $\angle QPY = (\sphericalangle QY + \sphericalangle BP)/2$ . Но  $(\sphericalangle AP - \sphericalangle BP)/2 = \angle PBA - \angle PAB = \angle QPX - \angle QPY$ , следовательно дуги  $QX$  и  $QY$  равны. Другие случаи рассматриваются аналогично.

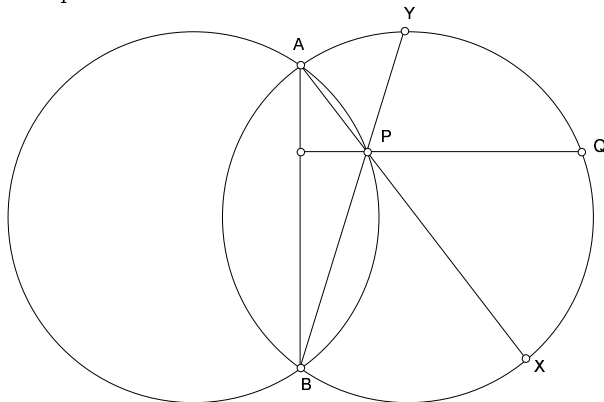


Рис.8.4

8.5. (В.Гуровиц, Б.Френкин) Существует ли выпуклый многоугольник, у которого каждая сторона равна какой-нибудь диагонали, а каждая диагональ — какой-нибудь стороне?

**Решение.** Ответ: нет. Предположим противное, и пусть  $AB$  — наибольшая сторона многоугольника,  $CD$  — наименьшая диагональ ( $AB$  и  $CD$  могут иметь один общий конец),  $E$  — вершина, лежащая от  $CD$  по другую сторону, чем  $A$  и  $B$  (рис.8.5). Тогда, так как  $AE \leq AB$  и  $BE \leq AB$ ,

$\angle AEB \geq 60^\circ$ . С другой стороны, так как  $CE \geq CD$  и  $DE \geq CD$ ,  $\angle CED \leq 60^\circ$ . Но  $\angle CED > \angle AEB$  — противоречие.

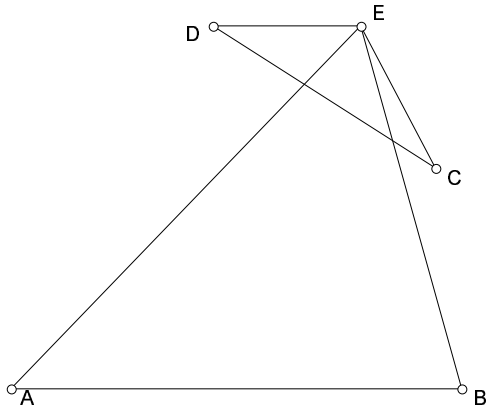


Рис.8.5

8.6. (М.Волчкевич) Дан треугольник  $ABC$  и точка  $P$  внутри него.  $A', B', C'$  — проекции  $P$  на прямые  $BC, CA, AB$ . Докажите, что центр окружности, описанной около треугольника  $A'B'C'$ , лежит внутри треугольника  $ABC$ .

**Решение.** Пусть  $A_1, B_1, C_1$  — точки, симметричные  $P$  относительно  $BC, CA, AB$ . Так как  $CA_1 = CP = CB_1$ , серединный перпендикуляр к отрезку  $A_1B_1$  совпадает с биссектрисой угла  $A_1CB_1$ . Так как  $\angle A_1CB_1 = 2\angle ACB$ , эта биссектриса проходит внутри угла  $ACB$  (рис.8.6). Аналогично, серединные перпендикуляры к отрезкам  $A_1C_1$  и  $B_1C_1$  проходят внутри соответствующих углов треугольника  $ABC$ . Следовательно, центр  $Q$  окружности, описанной около треугольника  $A_1B_1C_1$ , лежит внутри треугольника  $ABC$ . Так как треугольник  $A'B'C'$  получается из треугольника  $A_1B_1C_1$  гомотетией с центром  $P$  и коэффициентом  $\frac{1}{2}$ , центр окружности, описанной около  $A'B'C'$ , совпадает с серединой отрезка  $PQ$  и, значит, лежит внутри  $ABC$ .

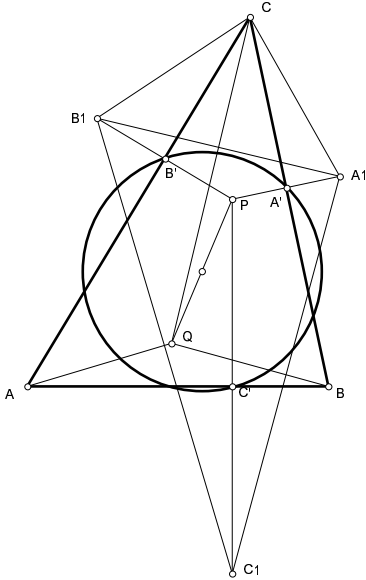


Рис.8.6

9 класс

9.1. (В.Протасов) Дана окружность радиуса  $R$ . Две другие окружности, сумма радиусов которых также равна  $R$ , касаются ее изнутри. Докажите, что прямая, соединяющая точки касания, проходит через одну из общих точек этих окружностей.

**Решение.** Пусть  $O$  — центр внешней окружности,  $O_1, O_2$  — центры внутренних,  $A, B$  — точки касания. Проведем через  $O_1$  прямую, параллельную  $OB$ , а через  $O_2$  прямую, параллельную  $OA$ . По теореме Фалеса эти прямые пересекутся в точке  $C$ , лежащей на отрезке  $AB$ . При этом  $O_1C = O_1A$  и  $O_2C = O_2B$ , так что точка  $C$  принадлежит обеим внутренним окружностям (рис.9.1).

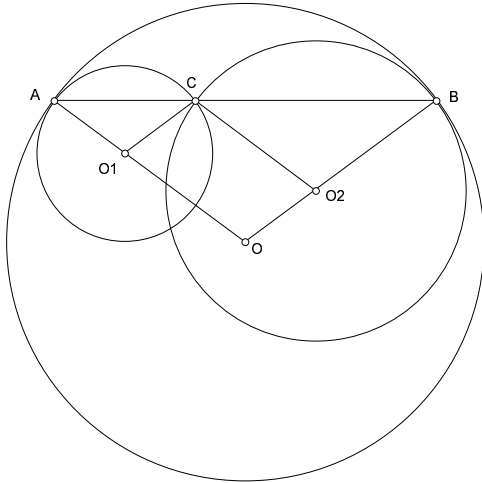


Рис.9.1

9.2. (В.Протасов) Дана окружность, точка  $A$  на ней и точка  $M$  внутри нее. Рассматриваются хорды  $BC$ , проходящие через  $M$ . Докажите, что окружности, проходящие через середины сторон всех треугольников  $ABC$ , касаются некоторой фиксированной окружности.

**Решение.** Пусть  $O$  — центр данной окружности,  $O'$  — центр окружности, проходящей через середины сторон  $ABC$ ,  $P$  — центр тяжести  $ABC$ . Поскольку вершины треугольника  $ABC$  переходят в середины его сторон при гомотетии с центром  $P$  и коэффициентом  $-\frac{1}{2}$ ,  $P$  лежит на отрезке  $OO'$  и делит его в отношении  $2 : 1$ . Кроме того, так как множество середин хорд, проходящих через  $M$ , — это окружность с диаметром  $OM$ , множество центров тяжести треугольников  $ABC$  — тоже окружность, получающаяся из нее гомотетией с центром  $A$  и коэффициентом  $\frac{2}{3}$ . Значит, множество точек  $O'$  — тоже окружность (рис.9.2).

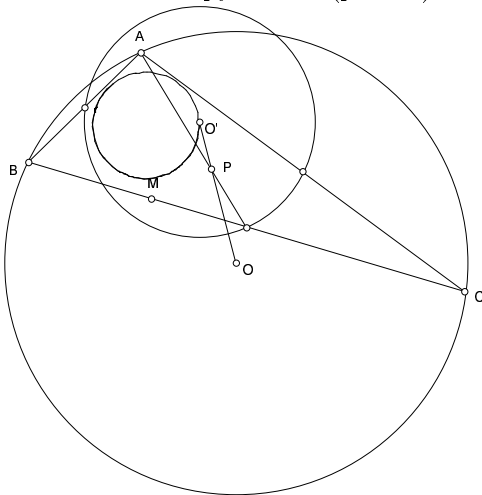


Рис.9.2

Поскольку радиусы всех окружностей, проходящих через середины сторон  $ABC$ , равны половине радиуса данной окружности, все эти окружности касаются двух окружностей, концентричных с окружностью, на которой лежат точки  $O'$  (если точка  $M$  совпадает с  $O$ , одна из этих окружностей вырождается в точку).

9.3. (А.Акопян) Треугольники  $ABC$  и  $A_1B_1C_1$  подобны и по-разному ориентированы. На отрезке  $AA_1$  взята точка  $A'$ , такая что  $AA'/A_1A' = BC/B_1C_1$ . Аналогично строим  $B'$  и  $C'$ . Докажите, что  $A'$ ,  $B'$  и  $C'$  лежат на одной прямой.

**Решение.** Подобие, переводящее  $ABC$  в  $A_1B_1C_1$ , можно представить как композицию симметрии относительно прямой  $l$  и гомотетии с центром в некоторой точке, лежащей на  $l$ , и коэффициентом  $k$ , равным отношению соответствующих сторон треугольников. Очевидно, что отрезки  $AA_1$ ,  $BB_1$ ,  $CC_1$  делятся  $l$  в отношении, равном  $k$ , т.е. точки  $A'$ ,  $B'$ ,  $C'$  лежат на  $l$ .

9.4. (С.Маркелов) В невыпуклом шестиугольнике каждый угол равен либо  $90$ , либо  $270$  градусов. Верно ли, что при некоторых длинах сторон его можно разрезать на два подобных ему и неравных между собой шестиугольника?

**Решение.** Пусть  $t$  — корень уравнения  $t^4 + t^2 = 1$ . Возьмем шестиугольник  $ABCDEF$ , в котором  $AB : BC = BC : CD = CD : AF = AF : FE = FE : ED = \frac{1}{t}$ , и разрежем его, как на рис.9.4. Тогда получившиеся шестиугольники подобны  $ABCDEF$  с коэффициентами  $t$  и  $t^2$ .

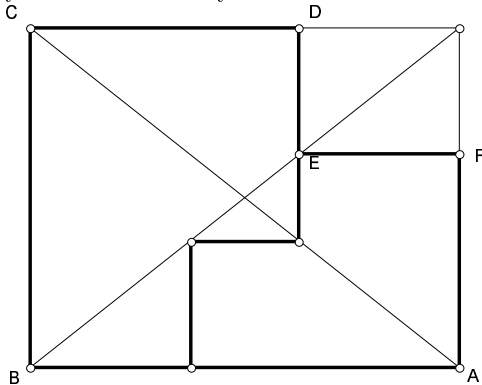


Рис.9.4

9.5. (А.Заславский) Прямая, проходящая через центр описанной окружности и точку пересечения высот неравностороннего треугольника  $ABC$ , делит его периметр и площадь в одном и том же отношении. Найдите это отношение.

**Решение.** Ответ:  $1 : 1$ .

Прежде всего докажем, что прямая делит периметр и площадь треугольника в одном отношении тогда и только тогда, когда она проходит через центр вписанной окружности. Действительно, пусть прямая пересекает стороны  $AC$ ,  $BC$  в точках  $X$ ,  $Y$ , а биссектрису угла  $C$  в точке  $J$ ;  $d_1$  — расстояние от  $J$  до стороны  $AB$ ,  $d_2$  — расстояние от  $J$  до двух других сторон. Тогда  $2S_{CXU} = (CX + CY)d_2$ ,  $2S_{AXYB} = (AX + BY)d_2 + AB \cdot d_1$ , и отношения равны тогда и только тогда, когда  $d_2 = d_1$ , т.е.  $J$  — центр вписанной окружности.

Пусть теперь центр описанной окружности  $O$ , центр вписанной окружности  $I$  и ортоцентр  $H$  лежат на одной прямой. Эта прямая содержит не более одной вершины треугольника. Пусть она не проходит через вершины  $A$  и  $B$ . Так как  $AI$ ,  $BI$  — биссектрисы углов  $HAO$ ,  $HBO$ , получаем, что  $AH/AO = HI/IO = BH/BO$ . Так как  $AO = BO$ , то  $AH = BH$ , т.е. треугольник  $ABC$  равнобедренный и искомое отношение равно  $1 : 1$ .

9.6. (Я.Ганин, F.Rideau) Дан выпуклый четырехугольник  $ABCD$ .  $A'$ ,  $B'$ ,  $C'$ ,  $D'$  — ортоцентры треугольников  $BCD$ ,  $CDA$ ,  $DAB$ ,  $ABC$ . Докажите, что в четырехугольниках  $ABCD$  и  $A'B'C'D'$  соответствующие диагонали делятся точками пересечения в одном и том же отношении.

**Решение.** Используем следующее утверждение.

Пусть  $KLMN$  — выпуклый четырехугольник; точки  $X$ ,  $Y$  делят отрезки  $KL$  и  $NM$  в отношении  $\alpha$ ; точки  $U$ ,  $V$  делят в отрезки  $LM$  и  $KN$  в отношении  $\beta$ . Тогда точка пересечения отрезков  $XU$  и  $YV$  делит первый из них в отношении  $\beta$ , а второй в отношении  $\alpha$  (рис.9.6)

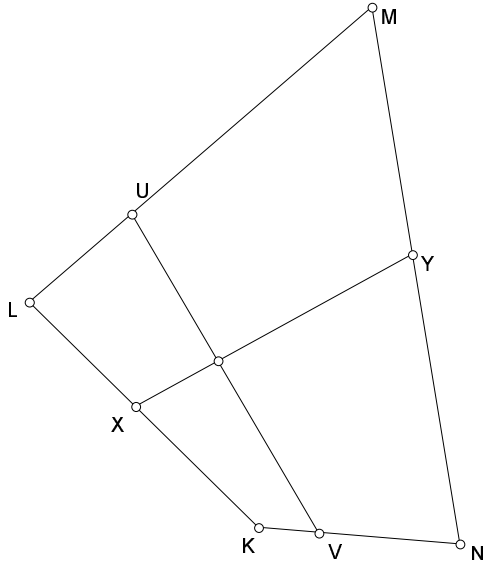


Рис.9.6

Доказательство этого утверждения легко получить методом масс.

Пусть теперь  $A_1, B_1, C_1, D_1$  — центры тяжести треугольников  $BCD, CDA, DAB, ABC$ ;  $A_2, B_2, C_2, D_2$  — центры описанных около них окружностей. Четырехугольник  $A_1B_1C_1D_1$  гомотетичен четырехугольнику  $ABCD$  относительно его центра тяжести с коэффициентом  $-\frac{1}{3}$ . Следовательно, соответствующие диагонали этих четырехугольников делятся точками пересечения в одинаковых отношениях. Докажем, что в тех же отношениях делят друг друга диагонали четырехугольника  $A_2B_2C_2D_2$ .

Пусть  $P$  — точка пересечения диагоналей четырехугольника  $ABCD$ . Тогда

$$\frac{AP}{CP} = \frac{AP}{BP} \frac{BP}{CP} = \frac{\sin \angle ABD \sin \angle ACB}{\sin \angle BAC \sin \angle CBD}.$$

Поскольку стороны и диагонали четырехугольника  $A_2B_2C_2D_2$  перпендикулярны сторонам и диагоналям четырехугольника  $ABCD$  (например, точки  $A_2, B_2$  лежат на серединном перпендикуляре к  $CD$ ), в таком же отношении делится и диагональ  $A_2C_2$ .

Пусть теперь  $P_1, P_2$  — точки пересечения диагоналей четырехугольников  $A_1B_1C_1D_1, A_2B_2C_2D_2$ ;  $P'$  — точка на отрезке  $A'C'$ , делящая его в отношении  $A_2P_2/P_2C_2$ . Так как точки  $A_1, C_1$  лежат на отрезках  $A'A_2, C'C_2$  и делят их в отношении  $2 : 1$ , из сформулированного утверждения вытекает, что точка  $P_1$  также делит отрезок  $P'P_2$  в отношении  $2 : 1$ . Рассмотрев аналогичную точку на отрезке  $B'D'$ , получим тот же результат. Отсюда следует, что  $P'$  — точка пересечения диагоналей четырехугольника  $A'B'C'D'$ , причем диагонали делятся этой точкой в том же отношении, что и в четырехугольниках  $A_1B_1C_1D_1, A_2B_2C_2D_2$  и  $ABCD$ .

## 10 класс

10.1. (Hiacinthos) Пять прямых проходят через одну точку. Докажите, что существует замкнутая пятизвенная ломаная, вершины и середины звеньев которой лежат на этих прямых, причем на каждой прямой лежит ровно по одной вершине.

**Решение.** Пусть  $O$  — точка пересечения прямых. Возьмем на прямой  $l_1$  точку  $A_1$  и найдем на  $l_3$  такую точку  $A_2$ , что середина  $B$  отрезка  $A_1A_2$  лежит на прямой  $l_2$  (рис.10.1). Применяя теорему синусов к треугольникам  $OA_1B$  и  $OA_2B$ , получаем, что  $\frac{OA_2}{OA_1} = \frac{\sin \angle A_1OB}{\sin \angle A_2OB}$ .

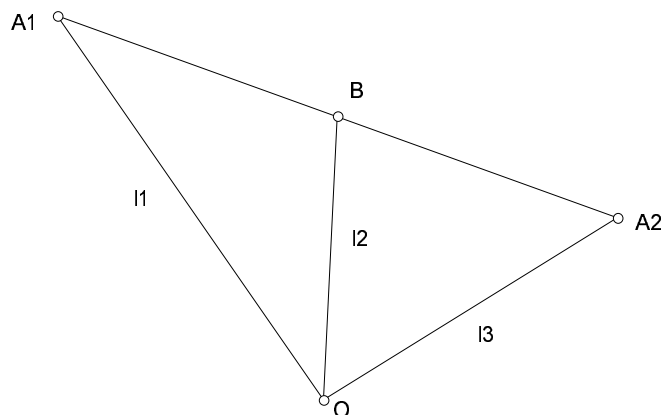


Рис.10.1

Аналогично по точке  $A_2$  построим на прямой  $l_5$  такую точку  $A_3$ , что середина  $A_2A_3$  лежит на  $l_4$  и т.д. Перемножив полученные соотношения, получим, что  $A_6$  совпадает с  $A_1$ .

10.2. (А.Заславский) Проекции точки  $X$  на стороны четырехугольника  $ABCD$  лежат на одной окружности.  $Y$  — точка, симметричная  $X$  относительно центра этой окружности. Докажите, что проекции точки  $B$  на прямые  $AX$ ,  $XC$ ,  $CY$ ,  $YA$  также лежат на одной окружности.

**Решение.** Рассмотрим случай, когда  $X$  лежит внутри  $ABCD$ , остальные разбираются аналогично. Пусть  $K, L, M, N$  — проекции  $X$  на  $AB, BC, CD, DA$ ;  $K', L', M', N'$  — точки, симметричные  $X$  относительно этих прямых. Так как  $K, L, M, N$  лежат на окружности,  $K', L', M', N'$  также лежат на окружности. Так как  $BK' = BX = BL'$ , серединный перпендикуляр к отрезку  $K'L'$  проходит через  $B$  и является биссектрисой угла  $K'BL'$ , т.е. симметричен  $BX$  относительно биссектрисы угла  $B$ . Следовательно, четыре прямые, симметричные прямым, соединяющим  $X$  с вершинами  $ABCD$ , относительно биссектрис соответствующих углов, пересекаются в одной точке  $X'$ , являющейся центром описанной окружности четырехугольника  $K'L'M'N'$ . При этом центром окружности  $KLMN$  будет середина  $XX'$ , и значит,  $X'$  совпадает с  $Y$ . Далее, так как четырехугольники  $XKBL$ ,  $XL'CM$ ,  $XMDN$ ,  $XNAK$  вписанные,  $\angle AXB + \angle CXD = \angle KXA + \angle KXB + \angle CXM + \angle DXM = \angle KNA + \angle BLK + \angle CLM + \angle MND = (\pi - \angle KLM) + (\pi - \angle MNK) = \pi$ . Отсюда следует, что прямые  $XB$  и  $DX$  симметричны относительно биссектрисы угла  $AXC$ . Аналогично, прямые  $YB$  и  $DY$  симметричны относительно биссектрисы угла  $A'YC$ . Кроме того, как уже было показано, совпадают биссектрисы углов  $BAD$  и  $XAY$ ,  $BCD$  и  $XCY$ . Таким образом, прямые, симметричные  $BA, BX, BC, BY$ , относительно биссектрис соответствующих углов  $AXCY$ , пересекаются в точке  $D$ . Отсюда, рассуждая аналогично началу решения, получаем утверждение задачи (рис.10.2).

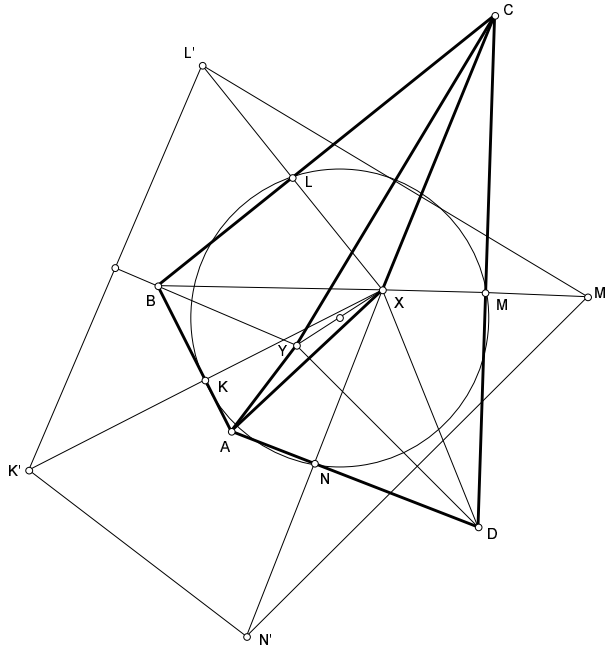


Рис.10.2

10.3. (П.Кожевников) Дана окружность и точка  $P$  внутри нее, отличная от центра. Рассматриваются пары окружностей, касающиеся данной изнутри и друг друга в точке  $P$ . Найдите геометрическое место точек пересечения общих внешних касательных к этим окружностям.

**Решение.** Пусть  $X$  — точка пересечения касательных. Проведем окружность с центром  $X$  и радиусом  $XP$  и рассмотрим инверсию относительно нее. При этой инверсии окружности, касающиеся в точке  $P$ , перейдут друг в друга, так как они касаются окружности инверсии и двух прямых, переходящих в себя. Следовательно, исходная окружность перейдет в себя. Значит, окружность инверсии ортогональна исходной, т.е. касательная из  $X$  к исходной окружности равна  $XP$  и  $X$  лежит на радикальной оси точки  $P$  и исходной окружности. Очевидно, что любая точка радикальной оси может быть получена таким образом, т.е. искомое ГМТ совпадает с радикальной осью точки  $P$  и исходной окружности.

10.4. (А.Заславский) Прямые, содержащие медианы треугольника  $ABC$ , вторично пересекают его описанную окружность в точках  $A_1, B_1, C_1$ . Прямые, проходящие через  $A, B, C$  и параллельные противоположным сторонам, пересекают ее же в точках  $A_2, B_2, C_2$ . Докажите, что прямые  $A_1A_2, B_1B_2, C_1C_2$  пересекаются в одной точке.

**Решение (М.Илюхина).** Пусть  $A'$  — точка пересечения касательных к описанной окружности  $\omega$  в точках  $B$  и  $C$  (аналогично построим точки  $B'$  и  $C'$ ). Тогда, как известно, прямая  $AA'$  является симедианой треугольника  $ABC$  (то есть прямой, симметричной  $AA_1$  относительно биссектрисы угла  $A$ ). Пусть прямая  $AA'$  вторично пересекает  $\omega$  в точке  $A_0$ . Тогда  $\angle A_1AB = \angle A_0AC$ , откуда дуги  $BA_1$  и  $CA_0$  равны.

Так как треугольник  $A'BC$  равнобедренный, а  $\omega$  — его вневписанная окружность, то они симметричны относительно биссектрисы  $\ell$  угла  $BA'C$ . Из равенства дуг следует, что при этой симметрии точки  $A_1$  и  $A_0$  переходят друг в друга. Заметим, что  $\ell$  — серединный перпендикуляр к  $BC$ , поэтому  $A$  при этой симметрии переходит в  $A_2$  (рис.10.4), а, следовательно, прямая  $A_1A_2$  переходит в прямую  $AA'$ . Поэтому, так как прямые  $AA', BB', CC'$  пересекаются в одной точке  $L$  как симедианы треугольника  $ABC$ , то прямые  $A_1A_2, B_1B_2, C_1C_2$  также пересекаются в точке, изогонально сопряженной  $L$  относительно треугольника  $A'B'C'$ .

Случай, когда одной из точек  $A', B', C'$  не существует, аналогичен.



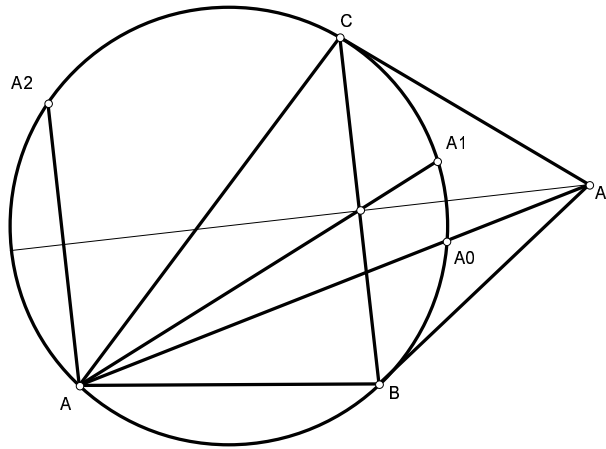


Рис.10.4

10.5. (С.Маркелов) Может ли развертка тетраэдра оказаться треугольником со сторонами 3, 4 и 5 (тетраэдр можно резать только по ребрам)?

**Решение.** Ответ: да. Например, можно склеить тетраэдр из развертки, показанной на рис.10.5 (меньший катет разделен на три равные части, а гипотенуза в отношении 4 : 1). Нетрудно убедиться, что каждый из трех углов, на которые делится меньший угол треугольника, меньше суммы двух других; следовательно, из такой развертки, действительно, можно склеить тетраэдр.

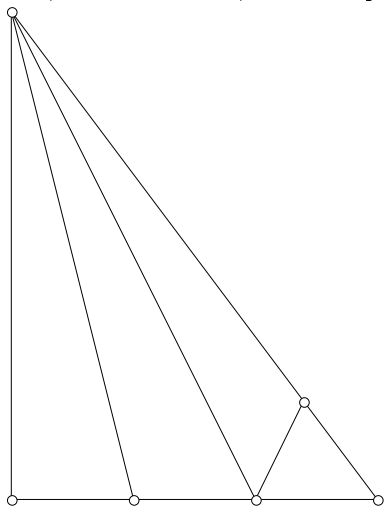


Рис.10.5

10.6. (А.Заславский) На доске был нарисован четырехугольник, в который можно вписать и около которого можно описать окружность. В нем отметили центры этих окружностей и точку пересечения прямых, соединяющих середины противоположных сторон, после чего сам четырехугольник стерли. Восстановите его с помощью циркуля и линейки.

**Решение.** Построение основано на двух леммах.

1. Диагонали всех четырехугольников, вписанных в данную окружность с центром  $O$  и описанных около данной окружности с центром  $I$ , пересекаются в одной и той же точке  $L$ , лежащей на продолжении отрезка  $OI$  за точку  $I$ .

2. Центр вписанной в четырехугольник окружности лежит на прямой, соединяющей середины его диагоналей (Теорема Монжа).

Отметим также, что в любом четырехугольнике точка  $M$  пересечения прямых, соединяющих середины противоположных сторон, делит пополам отрезок между серединами диагоналей.

Из леммы 1 следует, что середины диагоналей искомого четырехугольника лежат на окружности с диаметром  $OL$ . Отсюда и из леммы 2 получаем, что точка  $M$  лежит на окружности, диаметрально

противоположными точками которой являются  $I$  и середина  $OL$ . Поэтому, проведя через  $M$  прямую, перпендикулярную  $IM$ , и найдя точку ее пересечения с  $OI$ , мы получим середину  $OL$ , а значит, и саму точку  $L$ . Далее, построив окружность с диаметром  $OL$  и найдя ее точки пересечения с прямой  $MI$ , получим середины диагоналей четырехугольника. Кроме того, рассмотрев четырехугольник, две вершины которого лежат на прямой  $OI$ , нетрудно убедиться, что для третьей вершины  $X$   $XI$  — биссектриса угла  $OXL$  (рис.10.6). Это дает возможность восстановить описанную окружность четырехугольника и найти его вершины, как точки пересечения этой окружности с диагоналями.

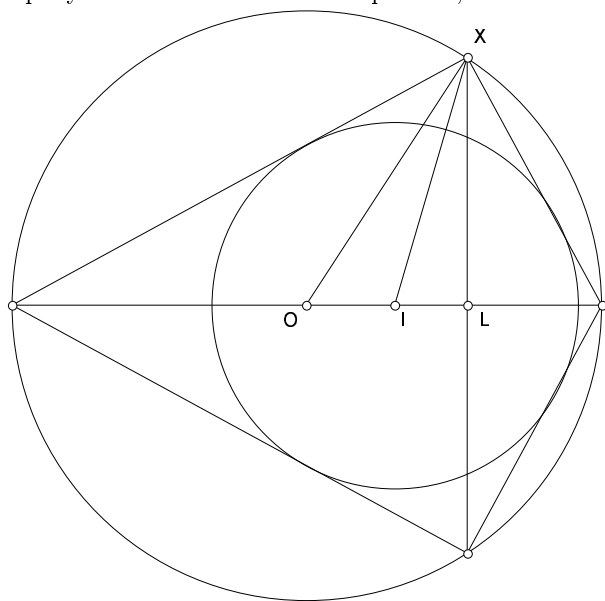


Рис.10.6